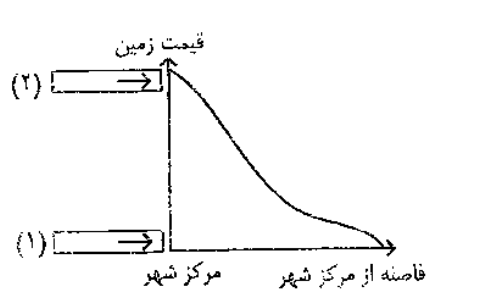

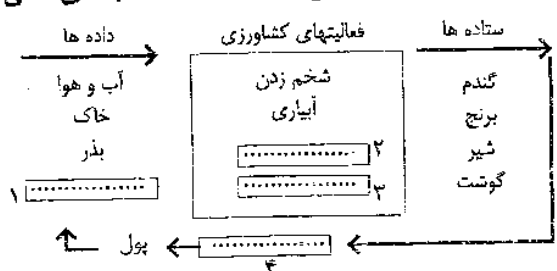


سؤالات امتحان نهایی درس: جغرافیا (۲)	رشته: ادبیات و علوم انسانی	ساعت شروع: ۸ صبح	مدت امتحان: ۹۰ دقیقه
سال سوم نظام جدید آموزش متوسطه	تاریخ امتحان: ۸ / ۳ / ۱۳۸۴		
دانش آموزان و داوطلبان آزاد سراسر کشور در خرداد ماه سال ۱۳۸۴	اداره کل سنجش و ارزشیابی تحصیلی		
ردیف	سؤالات		
نمره			

۱۵	اگر حجم قابل رویت یک کوه یخ (آیسبرگ) ۴۰ متر مکعب باشد، حجم کل آن چقدر است؟	۰/۵
۱۶	هر یک از ویژگیهای زیر به کدام نوع سکونتگاه (شهر یا روستا) مربوط است؟ الف - خدمات و تسهیلات محدود تر است. () ب - کاربری زمین پرتراکم تر و متنوع تر است. ()	۰/۵
۱۷	روی نمودار مقابل، جای خالی را با کلمات مناسب پر کنید. 	۰/۵
۱۸	سه ویژگی از فعالیت های «بخش غیر رسمی» در شهرها را بنویسید.	۰/۷۵
۱۹	علت بوجود آمدن جزیره ی حرارتی بر فراز شهرها چیست؟	۱
۲۰	نقش عمده هر یک از شهرهای زیر را بنویسید. الف - کمبریج () ب - قم () ج - هنگ کنگ ()	۰/۷۵
۲۱	کدام یک از اشکال زیر بهترین مرز آبی را تشکیل می دهد؟ چرا؟ 	۰/۷۵
۲۲	مرزهای تحمیلی چگونه مرزهایی هستند؟ توضیح دهید.	۱
۲۳	نوع شکل هر یک از کشورهای زیر را مشخص کنید. الف - شیلی () ب - اندونزی () ج - لهستان () د - تایلند ()	۱
۲۴	در تصویر زیر کشاورزی به عنوان یک سیستم نمایش داده شده است. جاهای خالی را با کلمات مناسب پر کنید. 	۱
۲۵	کشور ایران در کدامیک از اتحادیه ها یا سازمان های اقتصادی عضویت دارد؟ نام ببرید.	۰/۵
۲۰	جمع نمره	(صوفق باشید)